

[インデックスに戻る](#)

1 2. 微分と積分

1 2-3. 積分法

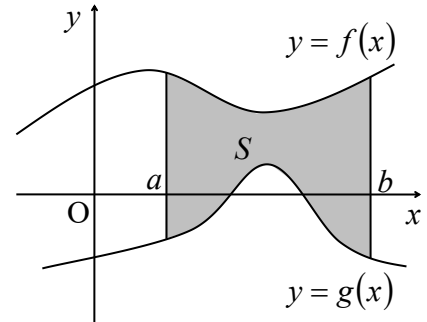
1 2-3-3. 定積分と面積

1 2-3-3-2. 2つの曲線に挟まれた部分の面積

$y = f(x)$ のグラフと $y = g(x)$ のグラフとに挟まれた部分の面積について、次のことがいえる。

a, b は $a < b$ を満たす実数とする。また、関数 $f(x), g(x)$ は、 $a \leq x \leq b$ の範囲で $f(x) \geq g(x)$ を満たすとする。このとき、 $y = f(x)$ のグラフ、 $y = g(x)$ のグラフ、直線 $x = a$ 、直線 $x = b$ で囲まれた部分の面積を S とすると

$$S = \int_a^b \{f(x) - g(x)\} dx$$



(証明)

まず、 $f(x) \geq 0$ かつ $g(x) \geq 0$ の場合を考える。
 $y = f(x)$ のグラフ、直線 $x = a$ 、直線 $x = b$ 、 x 軸で囲まれる部分の面積を T 、 $y = g(x)$ のグラフ、直線 $x = a$ 、直線 $x = b$ 、 x 軸で囲まれる部分の面積を U とする。

$$S = T - U$$

であり、

$$T = \int_a^b f(x) dx, \quad U = \int_a^b g(x) dx$$

であるから

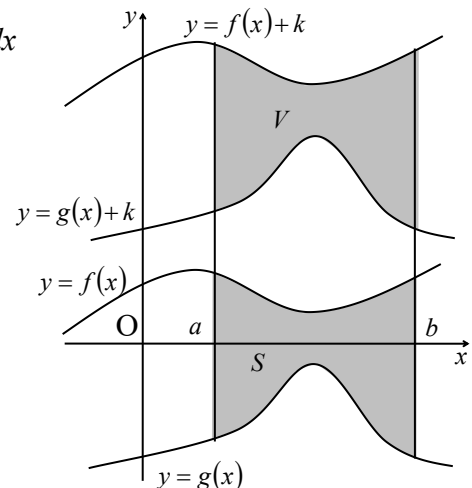
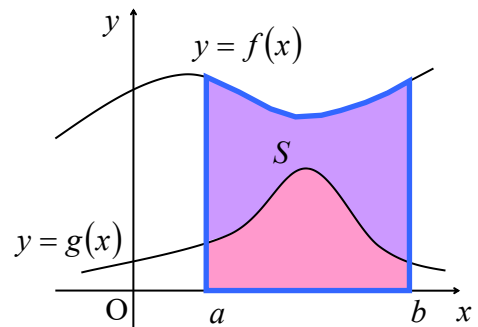
$$S = \int_a^b f(x) dx - \int_a^b g(x) dx = \int_a^b \{f(x) - g(x)\} dx$$

次に、より一般の場合、すなわち「 $f(x) \geq 0$ かつ $g(x) \geq 0$ 」が必ずしも成り立たない場合について考える。

k を十分大きく（具体的には $g(x)$ の最小値を m とすると、 $-m$ より大きく）とると

$$f(x) + k \geq g(x) + k \geq 0$$

が成り立つ。直線 $x = a$ 、直線 $x = b$ 、 $y = f(x) + k$ のグラフ、 $y = g(x) + k$ のグラフとで囲まれる部分の面積を V とすると



$$S = V$$

であり、

$$V = \int_a^b \{(f(x)+k) - (g(x)+k)\} dx = \int_a^b \{f(x) - g(x)\} dx$$

よって

$$S = \int_a^b \{f(x) - g(x)\} dx$$

以上より、すべての場合について

$$S = \int_a^b \{f(x) - g(x)\} dx$$

(例)

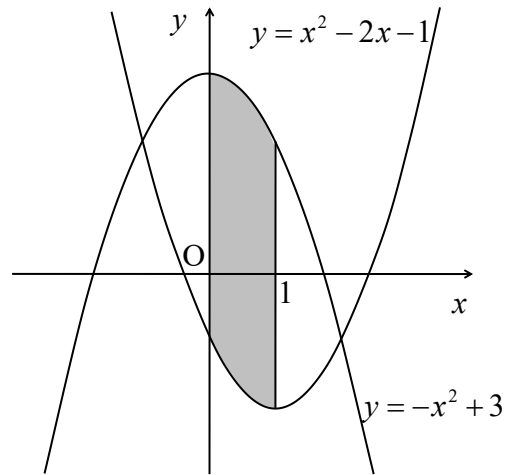
$f(x) = -x^2 + 3$ 、 $g(x) = x^2 - 2x - 1$ とする。直線 $x = 0$ 、 $x = 1$ 、 $y = f(x)$ 、 $y = g(x)$ で囲まれる部分の面積 S を求めよう。 $0 \leq x \leq 1$ では $f(x) \geq g(x)$ であるから

$$S = \int_0^1 \{(-x^2 + 3) - (x^2 - 2x - 1)\} dx$$

$$= \int_0^1 (-2x^2 + 2x + 4) dx$$

$$= \left[-\frac{2}{3}x^3 + x^2 + 4x \right]_0^1$$

$$= \left(-\frac{2}{3} + 1 + 4 \right) - 0 = \frac{13}{3}$$



[インデックスに戻る](#)